

HARI VIDYA BHAWAN


CLASS – NUR


SUBJECT – EVS

Revision worksheet-3

DATE:- 25/02/21

Q1) Read aloud and learn these animals name.





Extension Activities



- ✦ Play the game 'Copy Cat'. Make one child the cat. Ask him/her to do an action, like, wiggling fingers, jumping and jogging. The rest of the children should follow the cat. The cat then passes on the turn to another child.

Just like us, animals also need homes to live in. Say the names of these animal homes and identify the animals that live in them.



Learn any 10 animals name.

HARI VIDYA BHAWAN
CLASS- K.G
SUBJECT – MATHEMATICS
REVISION WORKSHEET- 3

Date: 25-02-2021

Instructions of worksheet::

- 1..please note from now onwards all worksheet should be completed in notebook of respective subjects.
- 2..these worksheet will be considered as your evaluation marks will be given on completion else you will have to appear for pen paper test once the school reopens.
- 3...Read every topic which will be given in worksheet of the chapter from your course book.
- 4..All the students must purchase course book as it will enable you to understand the chapter.
- 5..watch the video of related topic from your active app.
- 6...All queries regarding worksheet shall be resolved from 8 :00 am to 3:00pm.


Q1. Fill in the blanks:-


- a. What comes after Tuesday? Wednesday
- b. What comes after Friday? Saturday
- c. What comes before Thursday? Wednesday
- d. What comes before Sunday? Saturday
- e. What comes between: Sunday Monday Tuesday?
- f. What comes between: Friday Saturday Sunday?

Q2. Write number names from 21 to 30 (3 times).

21	Twenty-one
22	Twenty-two
23	Twenty-three
24	Twenty-four
25	Twenty-five
26	Twenty-six
27	Twenty-seven
28	Twenty-eight
29	Twenty-nine
30	Thirty

Q3. Subtraction:-


 **Math Bugs** Name _____
Subtraction
Directions: Find the difference. Color the pictures.

$\begin{array}{r} 8 \\ -2 \\ \hline \end{array}$	$\begin{array}{r} 6 \\ -3 \\ \hline \end{array}$	$\begin{array}{r} 4 \\ -3 \\ \hline \end{array}$	$\begin{array}{r} 9 \\ -5 \\ \hline \end{array}$	$\begin{array}{r} 7 \\ -4 \\ \hline \end{array}$
$\begin{array}{r} 10 \\ -5 \\ \hline \end{array}$	$\begin{array}{r} 5 \\ -2 \\ \hline \end{array}$	$\begin{array}{r} 6 \\ -4 \\ \hline \end{array}$	$\begin{array}{r} 3 \\ -1 \\ \hline \end{array}$	$\begin{array}{r} 8 \\ -5 \\ \hline \end{array}$
$\begin{array}{r} 2 \\ -2 \\ \hline \end{array}$	$\begin{array}{r} 9 \\ -3 \\ \hline \end{array}$	$\begin{array}{r} 7 \\ -3 \\ \hline \end{array}$		

Q4. Write numbers after, before and between.

Put in the number which comes before, between or after.

Before	Between	After
_____ 29	33 _____ 35	17 _____
_____ 18	5 _____ 7	30 _____
_____ 36	21 _____ 23	9 _____
_____ 7	12 _____ 14	25 _____
_____ 25	19 _____ 21	11 _____
_____ 31	37 _____ 39	39 _____
_____ 1	7 _____ 9	3 _____
_____ 23	26 _____ 28	29 _____



HARI VIDYA BHAWAN

CLASS :- 1

SUBJECT :- VALUE EDUCATION

Date :- 25.2.21 / Day :- Thursday.

INSTRUCTIONS :-

1. Read all the questions carefully .
 2. Do these all questions in your S.K. notebook.
-

Q1 :- Fill in the blanks –

1. There are 206 bones in the human body.
2. The national animal of India is tiger.
3. Holi is the festival of colours.
4. Giraffe is the tallest animal on the earth.
5. The national fruit of India is mango .
6. The national game of India is hockey.

7. The national Flag of India is Tiranga.

8. The national song of India is Vande Mataram.

9. Himachal pradesh is also known as the “Fruit Bowl” of India.

10. Skin is the most sensitive organ in our body.

Q 2 :- Draw any **5 vegetables** and write their names.

Q 3 :- Draw any **5 fruit** and Write their names.

Q 4 :- Draw any **2 sources of water** and write their names.

Q 5 :- Draw the **traffic light** and Write the traffic rules.

हरी विद्या भवन

कक्षा-2

विषय- हिंदी

पुनर्मूल्यांकन कार्य

वर्क शीट-4

दिनांक--25-02-2021

निर्देश

1. अब से सभी संबंधित विषयों की वर्कशीट

notebook में पूरा किया जाना अनिवार्य है

6. वर्कशीट से संबंधित सभी प्रश्नों को सुबह 8:00 बजे से अपराह्न 3:00 बजे तक हल किया जाएगा¹

क) निम्न प्रश्नों के उत्तर दें

1) एक सप्ताह में कितने दिन होते हैं?

उत्तर) एक सप्ताह में सात दिन होते हैं।

2) एक वर्ष में कितने महीने होते हैं?

उत्तर) एक वर्ष में बारह महीने होते हैं।

3) एक वर्ष में कितने दिन होते हैं?

उत्तर) एक वर्ष में 365 दिन होते हैं।

4) अथर्व के पत्र पाठ में बच्चों ने इसकी तरह कपड़े पहने थे?

उत्तर) अथर्व के पत्र पाठ में बच्चों ने चाचा नेहरू की तरह कपड़े पहने थे।

5) मार्च के बाद कौन सा महीना आता है?

उत्तर) मार्च के बाद अप्रैल का महीना आता है।

6) गुरुवार से पहले कौन सा दिन आता है?

उत्तर) गुरुवार से पहले बुधवार का दिन आता है।

ख) निम्न वाक्यों में सर्वनाम शब्द पर गोला लगाएं

1) मैं आज स्कूल जाऊंगी।

2) वे मेरे अच्छे मित्र हैं।

ग) निम्न वाक्य में क्रिया शब्द पर गोला लगाएं

1) पानी गिर रहा है

2) पतंग उड़ रही है

घ) शुद्ध वर्तनी चुनिए।

1) दार्जि.

2) दर्जी

2) पंद्रह.

पन्द्रह

HARI VIDYA BHAWAN

Revision worksheet - 6

SUBJECT – MATHS

Class – II

DATE – 25-2-2021

INSTRUCTIONS-

Read all questions very carefully

Do this in your subject copies respectively

Q-1. Division and Multiplication-

a) $16 \div 4 = \underline{4}$

b) $54 \div 9 = \underline{6}$

c) $30 \div 6 = \underline{5}$

d) $37 \times 5 = \underline{185}$

e) $68 \times 6 = \underline{408}$

f) $49 \div 7 = \underline{7}$

g) $95 \times 11 = \underline{1045}$

h) $82 \times 2 = \underline{164}$

i) $18 \div 9 = \underline{2}$

j) $15 \div 5 = \underline{3}$

k) $67 \times 3 = \underline{201}$

l) $58 \times 8 = \underline{464}$

Q-2. DIVISION-

- i) 20 children from groups of 4 for a game. How many groups do they form?

Ans - 5 groups.

- ii) 18 tennis balls are put in such a way that there are 3 balls in each box. How many boxes are used to place the tennis balls?

Ans- 6 boxes.

Q-3. The cost of a comic book is Rs 86. What will be the cost of 5 such books ?

Ans : Cost of one comic book = Rs 86

Number of comic books = 5

Cost of 5 comic book = $86 \times 5 = 430$

Q-4. There are 7 pencil in a packet. How many pencils are there in 80 such packets?

Ans : Number of pencil in a packet = 7

Number of packets of pencil = 80

Total number of pencils = $7 \times 80 = 560$

Q-5. 10 packets of wheat flour is consumed by a family of 12 people in a month. How many packets will be consumed by the family in a year ?

Ans : Number of wheat flour consumed by a family in a month = 10 packets

Number of packets consumed by family in a year = 10×12 (one year has 12 months)

= 120 packets

HARI VIDYA BHAWAN
REVISION WORKSHEET-9
CLASS-3
SUBJECT-ENGLISH

DATE: 25/02/2021

Note: - Do this worksheet in your class notebook

Q1) Fill in the blanks:

- a) Ravi realises that Nature is very beautiful and amazing.
- b) Ravi sees a swarm of butterflies flying over a flower bed.

Q2) Write the meaning of the following words:

- a) Astonished: Surprised
- b) Fascinating: Interesting

Q3) Tick the correct answer:

- a) Polly (plays/plays) basketball well.
- b) The children (go/goes) by bus.
- c) The pilot and the co-pilot (fly/flies) the airplane.

HARI VIDYA BHAWAN
REVISION WORKSHEET-6
CLASS-3
SUBJECT-MATHS

DATE: 25/02/2021

Note: - Do this worksheet in your class notebook.

Q1) Write a.m. or p.m. accordingly, after the time.

- a) I wake up at 6:00 a.m.
- b) I have breakfast at 7:00 a.m.
- c) I leave for school at 7:40 a.m.

Q2) Tick the correct the option:

- a) $200 - 100 = \underline{100}$
- b) $400 + 500 = \underline{900}$
- c) $400 \times 2 = \underline{800}$

Q3) Fill in the blanks: -

- a) $2 \times 6 = \underline{12}$
- b) $100 \times 5 = \underline{500}$
- c) $200 \times 2 = \underline{400}$

Q4) Find the sum: -

- a) $300 + 100 = \underline{400}$
- b) $710 + 100 = \underline{810}$

(Try to solve these questions)

Q5) Write the given number names in figures:

a) Five thousand ten = _____

b) Three thousand one = _____

c) Four hundred two = _____

Q6) Round off the numbers to the nearest tens:

a) 102 = _____

b) 403 = _____

c) 605 = _____

Q7) Write the numbers in standard form:

a) $200+10+1 =$ _____

b) $900+90+9 =$ _____

हरि विद्या भवन

कक्षा - 4

विषय- हिंदी

Revision worksheet - 6

दिनांक - 25/2/2021

निर्देश :-

अपनी स्कूल नोटबुक में इस वर्कशीट का अभ्यास करें।

क) बीमार होने के कारण स्कूल से छुट्टी के लिए प्रधानाचार्य को प्रार्थना पत्र लिखिए।

सेवा में,
श्रीमान प्रधानाध्यापक महोदय,
हरि विद्या भवन,
संगम विहार, दिल्ली

विषय - तीन दिन के लिए स्कूल से छुट्टी हेतु प्रार्थना पत्र

महोदय,
सविनय निवेदन यह है कि मैं आपके स्कूल में कक्षा _____ का/
की छात्र/छात्रा हूँ। मैं कल रात्रि से ज्वर से पीड़ित हूँ। चिकित्सक ने उपचार के
साथ-साथ तीन दिन के पूर्ण विश्राम के लिए कहा है। इसलिए मैं विद्यालय में
उपस्थित होने में असमर्थ हूँ।

अतः आप मुझे दिनांक _____ से _____ तक तीन दिन का
अवकाश प्रदान करें। आपकी अति कृपा होगी।

धन्यवाद

आपका आज्ञाकारी शिष्य/ शिष्या

नाम _____

कक्षा _____

दिनांक _____

ख) निम्न में से किसी एक विषय पर निबंध लिखे।

1) मेरा स्कूल

2) मेरा प्रिय मित्र

ग) होली के दृश्य का चित्र बनाएँ व उसमें रंग भरे।

हरि विद्या भवन

कक्षा - 5

विषय- हिंदी

Revision worksheet - 6

दिनांक - 25/2/2021

निर्देश :-

अपनी स्कूल नोटबुक में इस वर्कशीट का अभ्यास करें।

क) शादी में सम्मिलित होने हेतु स्कूल से छुट्टी के लिए प्रधानाचार्य को प्रार्थना पत्र लिखिए।

सेवा में,
श्रीमान प्रधानाध्यापक महोदय,
हरि विद्या भवन,
संगम विहार, दिल्ली

विषय - तीन दिन के लिए स्कूल से छुट्टी हेतु प्रार्थना पत्र

महोदय,
सविनय निवेदन यह है कि मैं आपके स्कूल में कक्षा 5 का/की विद्यार्थी हूँ।
मुझे अपनी बड़ी बहन की शादी में सम्मिलित होना है उनकी शादी दिनांक
_____ को होनी तय हुई है। शादी की तैयारियों और अन्य कार्यक्रमों में
सम्मिलित होने के लिए मुझे तीन दिन की छुट्टी की आवश्यकता है।

अतः आप मुझे दिनांक _____ से _____ तक तीन दिन का
अवकाश प्रदान करें। आपकी अति कृपा होगी।

धन्यवाद

आपका आज्ञाकारी शिष्य/शिष्या

नाम _____

कक्षा _____

दिनांक _____

ख) निम्न में से किसी एक विषय पर निबंध लिखे।

1) मेरा स्कूल

2) मेरा प्रिय मित्र

ग) होली के दृश्य का चित्र बनाएँ व उसमें रंग भरे।