

HARI VIDYA BHAWAN

CLASS – NUR

SUBJECT – EVS

Revision worksheet-1

DATE:- 11/02/21

Q1) Read aloud and learn these fruits name.



Learn any 10 fruits name.

**HARI VIDYA BHAWAN**  
**CLASS- K.G**  
**SUBJECT – MATHEMATICS**  
**REVISION WORKSHEET**

**Date: 11-02-2021**

**Instructions of worksheet::**

- 1..please note from now onwards all worksheet should be completed in notebook of respective subjects.
- 2..these worksheet will be considered as your evaluation marks will be given on completion else you will have to appear for pen paper test once the school reopens.
- 3...Read every topic which will be given in worksheet of the chapter from your course book.
- 4..All the students must purchase course book as it will enable you to understand the chapter.
- 5..watch the video of related topic from your active app.
- 6...All queries regarding worksheet shall be resolved from 8 :00 am to 3:00pm.

**Q1. Write forward counting from 1 to 100.**

**Q2. Write backward counting from 100 to 1.**

**Q3. Write number names from 1 to 10 (2 times) .**

**Q4. Circle the smallest number in each line:-**

- 24      78      90      66
- 66      23      56      70
- 48      100      57      9
- 25      74      5      99

**Q5. Circle the biggest number in each line:-**

- 24      73      90      66
- 66      23      56      70
- 48      100      57      9
- 25      74      5      99

**HARI VIDYA BHAWAN**

**CLASS :- 1**

**S.K. REVISION worksheet- 1**

Date :- 11.2.21 / Day :- Thursday

**Instructions :- Do this work in ur S.K. notebook..**

**Q :- Fill in the blanks.**

1. Emily is a baby elephant who lives in the jungle.
2. Emily was sad because she had no friend.
3. Binny could not be friends with Emily as she could not fly.
4. Finny was special because he could live and play in the water.
5. Emily thought Torty was special because he had a shell.
6. Bunty loves to play with butterflies and birds.
7. The army bubbles chases the germs away.
8. Farida goes for a walk every evening.
9. We should take care of animals and birds.
- 10 Farida's carries an empty box and a big water bottle.

**Q 2 :- True or False.**

1. Farida carries an eggs and apples. F
2. Farida took the broken biscuits from the tea seller. T

3. Farida feeds uncooked rice to sparrows. **T**
4. Vegetable seller gave fresh tomatoes to Farida. **F**.
5. We should not help animals and birds. **F**
6. Bunty always kept herself clean. **F**
7. Bunty did not like to play. **F**
8. Torty has hard brown shell. **T**
9. Binny loves to play in the blue sky. **T**
- 10 Emily play with her friends. **T**

**Q 3 :- Answer the following questions.**

**1. What was special about Emily ?**

**1. Emily had a long and strong nose called a truck.**

**2. Who told Emily that she was special too ?**

**2 Torty, the tortoise.**

**3. What were the germs doing to Bunty in her dream ?**

**3 They were attacking in her dreams.**

**4. Why does Farida take broken clay pots from the potter ?**

**4 Farida puts the smelly fish in the broken clay pots to feed the cats.**



Hari vidya bhawan

Class- 2

Subject - EVS

Revision worksheet - 2

Date :11-02-2021

**Instructions :**

Do this worksheet in evs copy.

All queries regarding worksheet shall be resolved from 8:00am.

To. 3:00 pm.

**Choose the correct options:**

1)Animals sounds are:

a) roar.                      b) ring

2)Some animals live in :

a) moon.                      b) dens

3)Bird suck nectar from flowers:

a) hummingbird.              b) crow

4)An animal that lives in both land water is a :

a) rabbit.                      b) turtle

5)What helps in moving clouds?

a) water.                      b) air.

**Answer the following questions :**

1)Name the four main directions.

ans) East, west, south and North.

2)What is compass?

ans) A compass is an instrument for finding directions, its needle always points to the north.

3)How many days make a year?

ans) 365 days make a year.

4)Name the device that tells us the time.

ans) A clock tells us the time.

**HARI VIDYA BHAWAN**

**SUBJECT – MATHS**

**Revision worksheet -2**

**Class - II**

DATE – 11-2-2021

**INSTRUCTIONS-**

**Read all questions very carefully**

**Do this in your subject copies respectively**

**Q-1. Fill in the blanks-**

a.  $3 \times 0 =$  \_\_\_\_\_

b.  $2 \times 1 =$  \_\_\_\_\_

c.  $6 \times 0 =$  \_\_\_\_\_

d.  $10 \times 0 =$  \_\_\_\_\_

e.  $7 \times 1 =$  \_\_\_\_\_

f.  $9 \times 1 =$  \_\_\_\_\_

**Q-2. Match the multiplication sentences in column A with the correct answers in column B.**

	Column A
(a)	8 2
(b)	7 6
(c)	5 5
(d)	7 0



	Column B
(a)	25
(b)	0
(c)	16
(d)	42

**Q-4. Shikha buys 7 boxes of mangoes. Each box has 6 mangoes. What is the total number of mangoes Shikha bought?**

**Q-5. Manoj saves 6 rupees every day in his piggy bank. How much money will he save in 9 days?**

**HARI VIDYA BHAWAN**  
**REVISION WORKSHEET-3**  
**CLASS-3**  
**SUBJECT-ENGLISH**

**DATE: 11/02/2021**

**Note: - Do this worksheet in your class notebook.**

**Q1) Answer the following questions: -**

**a) What was the Rabbit going to be late for?**

**Ans: The Rabbit was going to be late for visit to the Duchess.**

**b) Why did Alice run after the Rabbit?**

**Ans: Alice wanted to see what would happen to the Rabbit, so she ran after it.**

**c) Who is Gulliver?**

**Ans: Gulliver is a sailor.**

**d) Why does Gulliver fall asleep?**

**Ans: Gulliver fell asleep because he was tired and worn out from swimming.**

**Q2) Fill in the blanks:**

**a) Gulliver was a good swimmer.**

**b) Gulliver finally reached an island.**

**c) Alice saw a White Rabbit come running by in a great hurry.**

**d) The Rabbit had pretty pink eyes and pink ears.**

हरी विद्या भवन

कक्षा - 3

विषय- हिंदी

वार्षिक परीक्षा

दिनांक: --11/02/2021

समय:11/2hrs( 10:30से12:00)

अंक:40

निर्देश:

सभी प्रश्न ध्यान से पढ़ें।

सभी प्रश्न अनिवार्य हैं।

उत्तर पुस्तिका की फोटो विषय अध्यापिका को 12:30 पर भेजें।

समय पर ना भेजी गई उत्तर पुस्तिका मान्य नहीं होगी।

उत्तर पुस्तिका पर अपना नाम, एडमिशन नंबर, कक्षा और सेक्शन लिखें।

**क) निम्न प्रश्नों के उत्तर लिखें:- ( 3\*10)**

1)बाल दिवस के बारे में 3 पंक्तियां लिखें।

2) भोलू अपने जन्मदिन का कोट पेंट से लाने के लिए किस किस के पास गया नाम लिखें।

- 3) दर्जी और भालू भालू के बीच हुई बातचीत को अपने शब्दों में लिखें।
- 4) मोनू को कितने पंखों की जरूरत थी और उसने वह पंख किस किस से लिए क्रम अनुसार लिखें।
- 5) पतलू ने अपने सपने में सोमवार और मंगलवार को क्या करने का सोचा।
- 6) मई-जून तथा जुलाई-अगस्त के महीनों की विशेषताएं लिखो।
- 7) सर्वनाम की परिभाषा उदाहरण सहित लिखें।
- 8) विशेषण की परिभाषा उदाहरण सहित लिखें।
- 9) कविता के दिए गए अंश को पूरा करें।

एक कोई देश था,

देश में \_\_\_\_\_ था,

प्रदेश में \_\_\_\_\_ था,

शहर में \_\_\_\_\_ था।

10) दिए गए महीनों के नाम क्रमानुसार लिखे।

अगस्त, जनवरी, अप्रैल, जुलाई, सितंबर, दिसंबर

जून, मार्च, फरवरी, अक्टूबर, मई, नवंबर

11) होली त्योहार का चित्र बनाकर त्योहार बारे में पाँच पंक्तियाँ लिखिए  
।(5)

12) मोर का चित्र बनाकर उसकी तीन विशेषताएं लिखिए ।(5)

HARI VIDYA BHAWAN

REVISION WORKSHEET-2

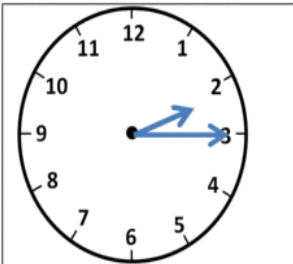
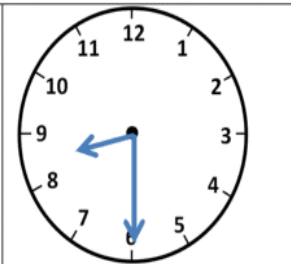
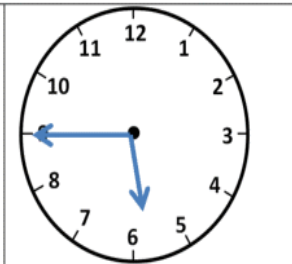
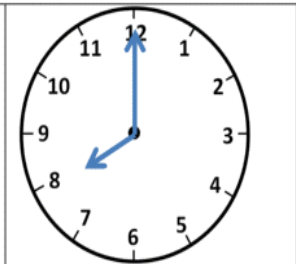
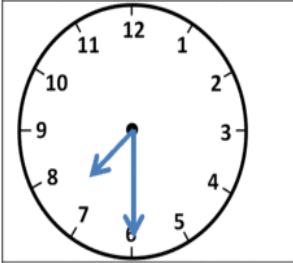
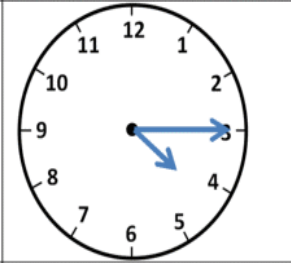
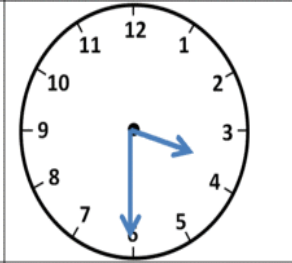
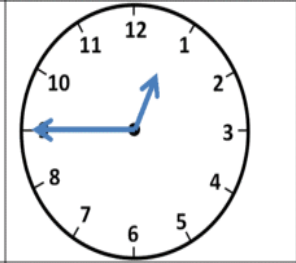
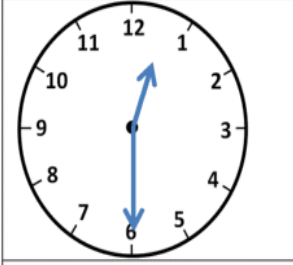
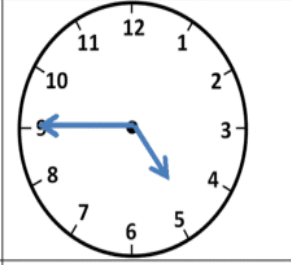


CLASS-3

SUBJECT-MATHS

DATE: 11/02/2021

Note: - Do this worksheet in your class notebook.

Q1) Write the time shown on each clock.

			
2:15	8:30	5:45	8:00
			
7:30	4:15	3:30	12:45
			
12:30	4:45	11:15	5:00

## Q2) Multiplication:

$$\begin{array}{r} 1) \quad 136 \\ \times \quad 2 \\ \hline 272 \\ \hline \end{array}$$

$$\begin{array}{r} 2) \quad 205 \\ \times \quad 4 \\ \hline 820 \\ \hline \end{array}$$

$$\begin{array}{r} 3) \quad 173 \\ \times \quad 3 \\ \hline 519 \\ \hline \end{array}$$

$$\begin{array}{r} 4) \quad 613 \\ \times \quad 4 \\ \hline 2452 \\ \hline \end{array}$$

$$\begin{array}{r} 5) \quad 524 \\ \times \quad 2 \\ \hline 1048 \\ \hline \end{array}$$

$$\begin{array}{r} 6) \quad 813 \\ \times \quad 3 \\ \hline 2439 \\ \hline \end{array}$$

$$\begin{array}{r} 7) \quad 386 \\ \times \quad 5 \\ \hline 1930 \\ \hline \end{array}$$

$$\begin{array}{r} 8) \quad 483 \\ \times \quad 3 \\ \hline 1449 \\ \hline \end{array}$$

$$\begin{array}{r} 9) \quad 695 \\ \times \quad 2 \\ \hline 1390 \\ \hline \end{array}$$

$$\begin{array}{r} 10) \quad 481 \\ \times \quad 4 \\ \hline 1924 \\ \hline \end{array}$$

$$\begin{array}{r} 11) \quad 276 \\ \times \quad 5 \\ \hline 1380 \\ \hline \end{array}$$

$$\begin{array}{r} 12) \quad 797 \\ \times \quad 3 \\ \hline 2391 \\ \hline \end{array}$$

$$\begin{array}{r} 13) \quad 804 \\ \times \quad 5 \\ \hline 4020 \\ \hline \end{array}$$

$$\begin{array}{r} 14) \quad 489 \\ \times \quad 4 \\ \hline 1956 \\ \hline \end{array}$$

$$\begin{array}{r} 15) \quad 625 \\ \times \quad 3 \\ \hline 1875 \\ \hline \end{array}$$

**Hari Vidya Bhawan**  
Subject - G.K  
Class - IV  
**Revision Worksheet - 1**

Date : 11.02.21

**General instructions:**

- You can do this work in Gk notebook.

**Q1. Write the names of the polar explorer.**

1. He was an American explorer who travelled much of the Arctic by dogsled . Robert Peary
2. He is the first person to have reached both the South pole and the North pole. Roald Amundsen
3. He was a British naval officer who located the northern magnetic pole in 1831. He discovered the Ross Sea and named two volcanoes.  
Sir James Clark Ross
4. He is credited for discovering that Antarctica is a continent. He reached the South Pole on January 17, 1912. Robert Falcon Scott

**Q2. Complete it.**

1. Ca n d y S t i c k
2. H o l l y
3. S l e i g h
4. W r e a t h

**Q3. Fill in the blanks.**

1. The longest reigning queen is Queen Elizabeth
2. The story of Pandora's Box is a Greek story.
3. Sir James Clark was a British naval officer who located the northern magnetic pole in 1831.
4. The southern lights are not visible.
5. Erik the Red was an Icelandic youth banished and sailed off to explore a large landmass west of Iceland and named it Greenland.
6. Andaman Islands are located in Indian Ocean.

**Q4. Identify the pictures.**





1.

Leopard Seal



2.

Puffin



3.

Macaroni Penguin

हरि विद्या भवन

कक्षा - 4

विषय- हिंदी

Revision worksheet - 2

दिनांक - 11/2/2021

निर्देश :-

अपनी स्कूल नोटबुक में इस वर्कशीट का अभ्यास करें।

क) दिए गए प्रश्नों के सही विकल्प पर (✓) का निशान लगाएँ।

1) बाँबी कितने साल का नटखट बालक था?

i) छह (✓)

ii) पाँच

2) तूफान शब्द का क्या अर्थ है?

i) हवा का तेज़ और भयानक बहाव (✓)

ii) आपत्ति

3) काल के कितने भेद होते हैं?

i) चार

ii) तीन (✓)

4) क्रिया के जिस रूप से बीते हुए समय का पता चले उसे कौन सा काल कहते हैं?

i) भूतकाल (✓)

ii) भविष्यकाल

5) क्रिया के जिस रूप से किसी काम का आने वाले समय में किया जाना या होना ज्ञात हो उसे कौन सा काल कहते हैं?

i) वर्तमान काल

ii) भविष्यकाल (✓)

ख) राष्ट्रीय बाग सरिस्का में हलचल क्यों थी?

उत्तर- बाग के नजदीकी भाग में कुछ शिकारियों और बाग के कर्मचारियों में मुठभेड़ हुई थी। बड़ी परेशानी की बात यह थी कि मुठभेड़ में एक बाघ शिकारियों द्वारा जखमी हुआ था। इस साल का यह तीसरा जखमी बाघ था। उसकी जाँच के लिए एक अच्छे पशु चिकित्सक को बुलाया गया था। इन्हीं कारणों से राष्ट्रीय बाग सरिस्का में हलचल थी।

**HARI VIDYA BHAWAN**  
Revision worksheet-1

Class-5  
Subject-computer  
Ch-7 Power point-templates and background

Date: 11/02/2021

**INSTRUCTION:**

- 1.) Please note from now onwards all worksheet should be completed in notebook of respective subjects.
  - 2.) These worksheets will be considered as your periodic test, marks will be given on completion else you will have to appear for pen paper test once the school reopens.
  - 3.) Read every topic which will be given in worksheet of the chapter from your course book.
  - 4.) All the students must purchase course book as it will enable you to understand the chapter.
  - 5.) All queries regarding worksheet shall be resolved from 8 :00 am to 3:00pm.
- 

**Do this work in computer notebook .**

**Q.1 What is the uses of PowerPoint?**

**Ans- PowerPoint is used to make presentations to communicate ideas, messages and other information to a group of people.**

**Q.2 How many presentations views are available in Power point? Name them.**

**Ans- There are six presentation views are available in power point they are normal, outline, slide sorter, notes page , Reading and slide sorter view.**

**Q.3 Name the four ways in which we can change the Background of the slide.**

**Ans- The background of slides can be changed in four ways. They are solid Background colour, Gradient colour, textured fill color and custom image fill.**

हरि विद्या भवन

कक्षा - 5

विषय- हिंदी

Revision worksheet - 2

दिनांक - 11/2/2021

निर्देश :-

अपनी स्कूल नोटबुक में इस वर्कशीट का अभ्यास करें।

क) दिए गए प्रश्नों के सही विकल्प पर (✓) का निशान लगाएँ।

1) राजकुमारी किस घोड़े पर सवार थी?

i) अरबी (✓)

ii) फारसी

2) राजकुमारी का क्या नाम था?

i) रत्नसिंह

ii) रत्नावती (✓)

3) 'जैसलमेर की राजकुमारी' कहानी के लेखक हैं-

i) भगवतीचरण वर्मा

ii) आचार्य चतुरसेन शास्त्री (✓)

4) जावेद आब्दी का जन्म किस सन् में हुआ था?

i) 1965 (✓)

ii) 1978

5) जावेद आब्दी के पिता अलीगढ़ मुस्लिम विश्वविद्यालय में किस विषय के अध्यापक थे?

i) अंग्रेज़ी (✓)

ii) इतिहास

ख) हेलन केलर और जावेद आब्दी में क्या समानताएँ और विभिन्नताएँ हैं?

उत्तर - हेलन केलर और जावेद आब्दी दोनों ही विशेष क्षमता वाले लोगों की श्रेणी में आते हैं। दोनों ही अपने माता-पिता, अध्यापकों की वजह से पढ़ लिखकर अपने पैरों पर खड़े हो पाए। आत्मनिर्भर बन पाए। लाखों लोगों की प्रेरणा स्रोत बन पाए। जहाँ हेलन एक साल की अवस्था में अपने सुनने देखने की क्षमता गवाँ बैठी और बचपन में बहुत चिड़चिड़ी रही। वहीं जावेद ने 8 से 10 साल की आयु में अपने चलने फिरने की क्षमता खोई। उनका बचपन सामान्य रहा।